

Всероссийская олимпиада
школьников по искусству (МХК)
в ЛУРЧ. с.п. Световодское
Бузарецкой Арианы
Русишвили
9 класс

408

ВСЕРОССИЙСКАЯ ОЛИМПИАДА ШКОЛЬНИКОВ
ИСКУССТВО (МХК). 2025–2026 уч. г.
ШКОЛЬНЫЙ ЭТАП. 9 КЛАСС ЗАДАНИЯ

Максимальный балл за работу – 100.

Уважаемый участник!

При выполнении заданий вам предстоит определённая работа, которую лучше организовать следующим образом:

- внимательно прочитайте задание и посмотрите на предложенные вам источники;
- если вы не уверены в ответе, не волнуйтесь – в материале заданий очень часто содержатся важные детали, опираясь на которые вы логически можете прийти к верному ответу;
- чётко распределяйте собственное время, обращая внимание на количество баллов за каждое задание.

За каждый правильный ответ вы можете получить определённое количество баллов, но не выше указанной максимальной оценки.

Сумма набранных баллов за все решённые вопросы – итог вашей работы.
Максимальное количество баллов – 100.

Задания считаются выполненными, если вы вовремя дали их членам жюри.

Желаем успеха!

Задания 1–3

Перед вами несколько графических изображений и портретов А.С. Пушкина, созданных в XIX и XX веках. Внимательно посмотрите на иллюстрации, подумайте, как, в каком возрасте, в какой обстановке, с какой интонацией нарисован поэт? Как устроено само изображение (построение линий, пятен, штрихов)?



1



2



3



4



5



6

Исходя из ваших наблюдений, ответьте на ряд вопросов:

1. На каком из рисунков автопортрет поэта. **2 5**
2. Какое изображение Пушкина выполнено знаменитым режиссёром, художником, основателем театра марионеток и создателем кукол? **5 5**
3. Распределите иллюстрации на две группы: созданные в XIX и XX веке.
XIX в - 2, 3, 4 XX в - 1, 5, 6. 5

5 Задание 04

Что является лишним в ряду?

Укажите лишний термин.

A - батик

B - выколотка

C - чеканка

D - гравировка

Правильный ответ - **A**

0 Задание 05

Что является лишним в ряду?

Укажите лишнее имя.

A - Клаудио Монтеверди

B - Георг Фридрих Гендель

C - Феликс Мендельсон Бартольди

D - Иоганн Себастьян Бах

Правильный ответ - **B**

5 Задание 06

Что является лишним в ряду?

Укажите лишний термин.

А-Готика

В-Импрессионизм

С-Классицизм

Д-Конструктивизм

Правильный ответ- В

5 Задание 07

Что является лишним в ряду?

Укажите лишнее название музыкального произведения.

А-Щелкунчик

В-Жизель

С-Спящая красавица

Д - Лебединое озеро

Правильный ответ- В

0 Задание 08

Что является лишним в ряду?

Укажите лишний термин.

А-Фреска

В-Витраж

С-Рельеф

Д - Мозаика

Правильный ответ- В

5 Задание 09

Из представленных работ Альбрехта Дюрера отметьте одну, которая не входит в цикл «Мастерские гравюры»:

1



2



3




4



Правильный ответ - 4

0 Задание 10

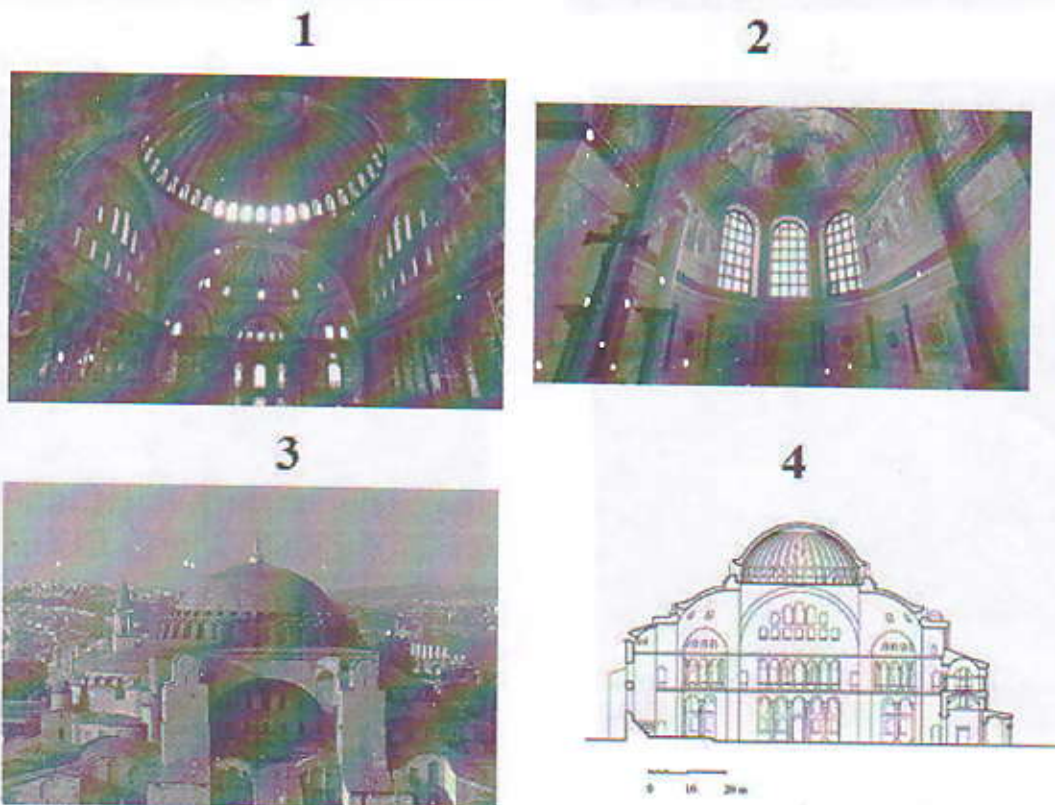
Вряд средневековых миниатюр представлены евангелисты.
Укажите лишнюю миниатюру.



Правильный ответ - 3

5 Задание 11

Из 4 представленных иллюстраций отметьте ту, которая не относится к храму Святой Софии в Константинополе:



Правильный ответ - 2

5 **Задание 12**

Вряд ли произведения Василия Поленова оказались лишней работой.
Отметьте её.

1



2



3



4



Правильный ответ — 4

0 **Задание 13**

Музейные сотрудники готовят выставку, посвященную образу Иоанна Крестителя.

Укажите, какое из произведений он взял на выставку по ошибке.

1



2



3



4




Правильный ответ - 4

5 Задание 14

Образецкакогонародногохудожественногопромыславывидитена изображении?

Укажитеверныйответ.



А-Палехскаяроспись

В-Тагильскаяроспись

С-Жостовскаяроспись

Д-Холуйскаяроспись

Правильный ответ - С

4 Задание 15

Образец какого народного художественного промысла вы видите на изображении?

Укажите верный ответ.



А-Богородская игрушка

В-Дымковская игрушка

С-Филимоновская игрушка

Д-Каргопольская игрушка

Правильный ответ – А

5 Задание 16

Перед вами список терминов из различных областей искусства.

Укажите 5 терминов, связанных с музыкальными жанрами.

А-Аллегро

В-Кантеллора

С-Мазурка

Д-Мастихин

Е-Менуэт

Ф-Партер

Г-Романс

Н-Стаккато

І -Токката

Ј -Фуга

Правильный ответ- С, Е, G, І, Ј

5 Задание 17

Перед вами список терминов из различных областей искусства.

Укажите 5 предметов, необходимых для деятельности живописца.

А-Аллегро

В-Акватинта

С-Каннелюра

D-Краски

Е-Мазурка

F-Мастихин

G-Мольберт

Н-Палитра

І -Партер

Ј -Холст

Правильный ответ- D, F, G, H, Ј

Д Задание 18

Какие слова пропущены в описании произведения?

На полотне художника ... изображен великий русский [...]. Он представлен по пояс с повернутой налево головой и скрещенными на груди руками. На правое плечо поэта накинут клетчатый шотландский плед — этой деталью художник обозначает связь героя с Байроном, кумиром эпохи романтизма. В глубине изображена статуя ... с лирой, выступающая главным атрибутом сферы деятельности героя.

Укажите верный вариант ответа.



А-Тропинина, прозаик, А.С.Пушкин, муза

В-Кипренского, поэт, А.С.Пушкин, Венеры

С-Брюллова, писатель, М.В.Лермонтов, Афродиты

Д-Кипренского, поэт, А.С.Пушкин, Музы

Правильный ответ - В

5 Задание 19

Посмотрите на изображение.

Какие из утверждений о нём, указанных ниже, являются ложными?

Отметьте верный вариант ответа.



А-Это полотно написано И.Е.Репиным.

В-Работа находится в Государственном Русском музее.

С-Художник неоднократно переписывал работу, в том числе по просьбе П. Третьякова.

Д-В финальной версии полотна входящему мужчине автор придал черты писателя В. Гаршина.


Правильный ответ- В

5 Задание 20

Посмотрите на изображение.

Фрагмент какого известного полотна представлен в нем?

Отметьте верный вариант ответа.



А-М.Нестеров. Девушка у пруда

В-В.Васнецов. Три царевны подземного царства

С-И.Айвазовский. На берегу

Д-В.Васнецов. Аленушка

Правильный ответ - **D**